

EFTER AVSNITT 3.1

1 a) $38 + 30$ b) $97 + 20$ c) $649 - 400$


2 a) $4 \cdot 5$ b) $\frac{54}{6}$ c) $9 \cdot 7$

3 Skriv klockslagen med siffror.


- a) Halv nio på kvällen
b) Kvart över två på eftermiddagen

4 Skriv två klockslag till varje bild.


a)



b)



c)



5 En påse med 6 bullar kostar 48 kr. Hur mycket kostar

- a) 1 bulle b) 3 bullar c) 5 bullar

6 Maja och Agnes vill se vem som kan stå längst på ett ben. Maja kan hålla balansen i 42 sekunder. Agnes lyckas stå 23 sekunder längre. Hur länge kunde Agnes stå på ett ben? Svara i minuter och sekunder.

7 En höst fick Albin många äpplen i sin trädgård. Han fyllde sin skottkärra åtta gånger med äpplen och körde ut dem i skogen för att mata rådjuren. Hur många kilogram äpplen fick rådjuren av Albin om varje lass vägde 75 kg?

8 Hassan och Freja köper tillsammans sju lotter för 56 kr.

- a) Hur mycket ska Hassan betala om han tar 4 av lotterna?
b) Hur mycket ska Freja betala?

Veckans problem

I en slalombacke står det 12 slalompinnar. Det är 10 m mellan varje.
Hur långt är det mellan första och sista pinnen?