


EFTER AVSNITT 5.4


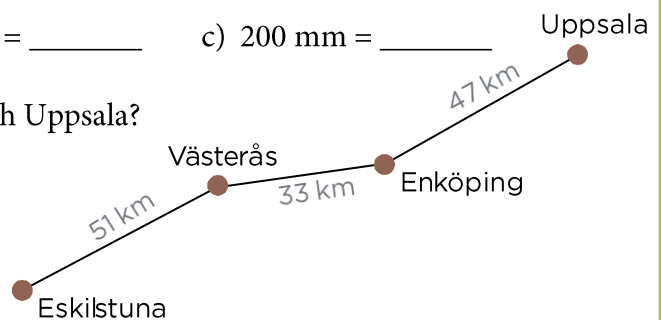
Namn: _____ Klass: _____

1 Skriv bråken i storleksordning. Börja med det största.

$$\frac{1}{4} \quad \frac{1}{2} \quad \frac{1}{5} \quad \frac{1}{3} \quad \frac{1}{10} \quad \text{Svar: } _ _ _ _ _ _$$

2 a) $3\,628 + 796$ b) $7134 - 666$ c) $475 + 123 + 97$ **3** Hur många decimeter ära) $80\text{ cm} = _ _ _$ b) $140\text{ cm} = _ _ _$ c) $200\text{ mm} = _ _ _$ **4** Hur långt är det mellan Eskilstuna och Uppsala?

Svara i

a) kilometer
b) mil och kilometer**5** a) Vad kallas figuren?
b) Mät sidorna och räkna ut omkretsen.
c) Rita en kvadrat med lika lång omkrets.