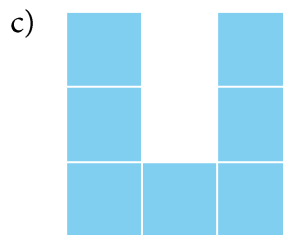
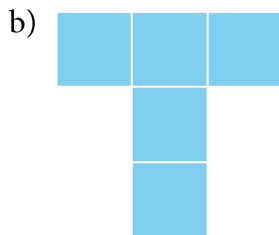



EFTER AVSNITT 6.2

Namn: _____ Klass: _____

1 Du har talet 5 273. Avrunda tilla) tusental Svar: _____ b) hundratal Svar: _____c) tiotal Svar: _____**2** Hur stor är arean om varje ruta har arean 1 cm²?Svar: _____Svar: _____Svar: _____**3** Dela upp i liter och centiliter.

a) 225 cl = _____ b) 475 cl = _____ c) 550 cl = _____

4 Elias häller upp 12 cl juice i ett glas.Hur många deciliter och centiliter finns
det sammanlagt i 6 likadana glas?**5** a) $\frac{351}{3}$ b) $\frac{960}{4}$ c) $\frac{755}{5}$ 