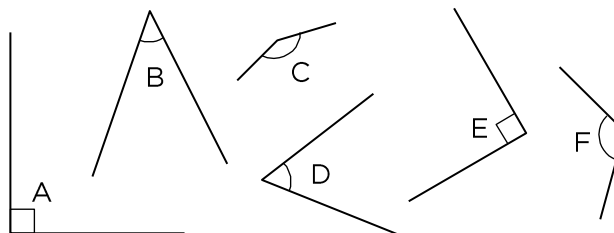



EFTER AVSNITT 5.5



Namn: _____

1 Vilka av vinklarna ära) spetsiga Svar: _____b) räta Svar: _____c) trubbiga Svar: _____**2** a) Rita en rektangel med sidorna 7 cm och 3 cm.

b) Beräkna omkretsen.

**3** Hur många grader ära) en rät vinkel Svar: _____b) ett halvt varv Svar: _____c) tre fjärdedels varv Svar: _____

4 En sexhörning har omkretsen 3 dm.
Hur långa är sidorna om alla är lika långa?
Svara i centimeter.


**5** a) $178,3 + 12,52$ b) $92,3 - 7,65$ c) $0,48 \cdot 8$ 

6 Under en regnig vecka kom det så här mycket regn de olika dagarna:

a) Beräkna medelvärdet. Svar: _____

b) Vilken är medianen? Svar: _____

c) Vilket är typvärdet? Svar: _____




Mån	Ti	On	To	Fr	Lö	Sö
8 mm	5 mm	5 mm	0 mm	10 mm	5 mm	9 mm

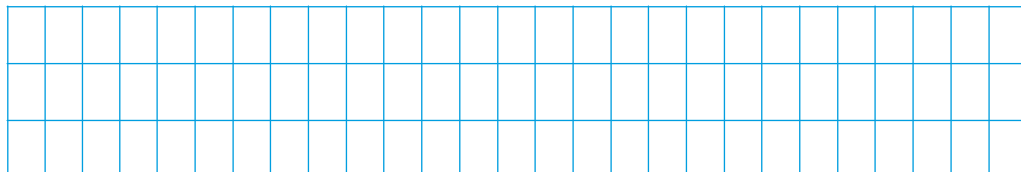
7 Mät pennans längd i hela och halva centimeter. Hur lång är pennan i verkligheten?




Skala 1 : 3



8 Darin köper 3 kg bananer. Priset per kilogram är 17,90 kr. Hur mycket får Darin tillbaka om han lämnar fram 100 kr?



9 Gross och tjog är gamla enheter. Ett gross är lika med 144 stycken och ett tjog är lika med 20 stycken. Hur många hela tjog är ett gross och hur många blir över?



Veckans problem

Hur stor andel av figuren är grön?

Svar: _____

