

EFTER AVSNITT 6.1

Namn: _____


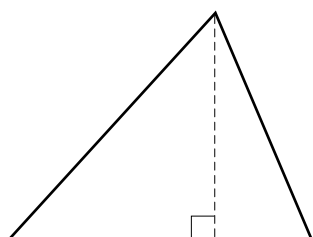

1 Skriv längderna i meter.

a) 25 cm = _____ b) 40 dm = _____ c) 2 m 8 cm = _____


2 Avrunda talet 5,347602 till

a) tiondelar Svar: _____ b) hundradelar Svar: _____

c) tusendelar Svar: _____

3 Mät i hela centimeter. Beräkna sedan arean,**4** Omkretsen av en cirkel är 15 m. Ungefär hur lång är radien?

5 a) $\frac{52,2}{3}$ b) $34,6 \cdot 8$ c) $\frac{37,8}{6}$

**6** En halsduk är 35 mm lång på en bild. Hur lång är halsduken i verkligheten om bilden är i skala 1 : 40? Svara i meter.