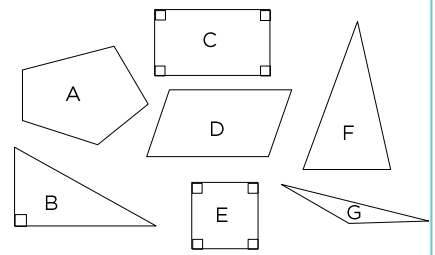


6 Vilken eller vilka av figurerna

a) har enbart spetsiga vinklar Svar: _____

b) är månghörningar Svar: _____

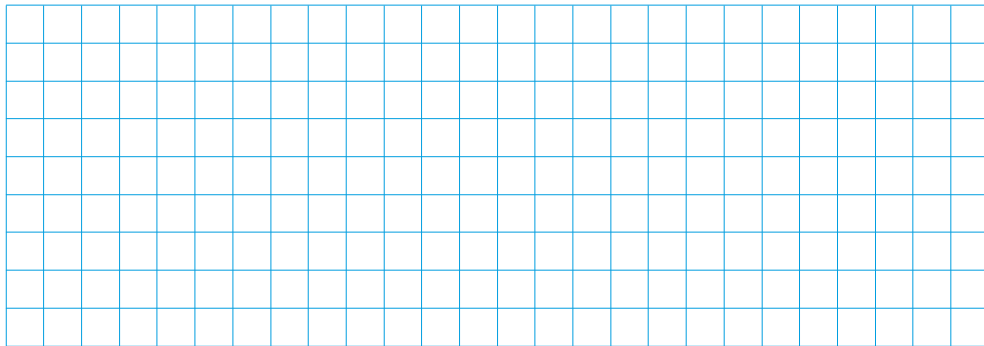
c) är rektanglar Svar: _____




7 I en triangel är basen 12 cm och höjden 8 cm.

a) Rita triangeln i skala 1 : 2.


b) Hur stor area har den triangel som du ritat?



8 En dag är priset på räkor 259 kr per kilogram. Hur mycket får Simone tillbaka på en hundralapp, om hon köper 3 hg räkor och inget annat?



9 Mormor håller upp 2,5 liter lingondricka i flaskor som rymmer 70 cl. Hur stor andel av den sista flaskan blir fylld med saft?



Veckans problem

En låda med 40 lika tunga kulor väger 135 g.
Om man plockar bort 15 kulor väger lådan 90 g.

a) Hur mycket väger varje kula?

b) Hur mycket väger lådan när den är tom?

