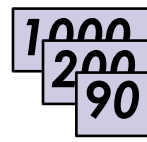
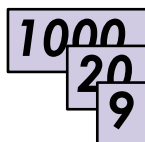
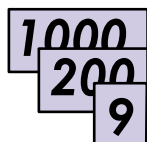


Efter avsnitt 2.1

Namn: _____

1 Vilket tal kommer närmast efter?

a) $219 =$ _____ b) $299 =$ _____ c) $1\ 009 =$ _____

2 Vilket är talet?

a) _____ b) _____ c) _____

3 a) $432 + 32 =$ _____

b) $8 \cdot 7 =$ _____

c) $57 - 17 =$ _____

d) $\frac{36}{6} =$ _____

4 Skriv talen med siffror.

a) tretusen tvåhundra _____ b) tretusen två _____

5 Hur mycket kostar 3 äpplen?

8 kr

Svar: _____ kr

6 a)

	5	3	3
+	3	1	9

b)

	3	6	7
+		2	4

c)

	7	2	4
+	6	8	5

7 Vilket tal ska stå i stället för symbolen?

a) $\diamond - 8 = 18$ $\diamond =$ _____

b) $\frac{\diamond}{6} = 3$ $\diamond =$ _____

c) $25 = \diamond - 25$ $\diamond =$ _____

d) $5 \cdot \diamond = 30$ $\diamond =$ _____

- 8** En bil väger 1 100 kg. Morfar väger 75 kg. Han sätter sig i bilen för att köra till affären. Hur mycket väger bilen med förare?

Svar: _____ kg

Veckans problem

Malin och Gustav är 23 år sammanlagt. Gustav är ett år äldre än Malin.

Hur gamla är de båda barnen?

Svar: Gustav är _____ år och Malin är _____ år.