

Efter avsnitt 2.3

Namn: \_\_\_\_\_

**1** a)  $5 \cdot 10 =$  \_\_\_\_\_ b)  $4 \cdot 7 =$  \_\_\_\_\_ c)  $9 \cdot 8 =$  \_\_\_\_\_

**2** Vilket värde har siffran 4 i talen?

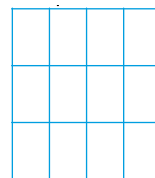
a) 468 \_\_\_\_\_ b) 4 395 \_\_\_\_\_ c) 2 040 \_\_\_\_\_

**3** a)  $\frac{24}{8} =$  \_\_\_\_\_ b)  $\frac{24}{6} =$  \_\_\_\_\_ c)  $\frac{27}{9} =$  \_\_\_\_\_

**4** Klaras hund väger 32 kg. Noras hund väger 27 kg.  
Hur mycket mer väger Klaras hund?

Svar: \_\_\_\_\_ kg

**5** Ali hoppade 325 cm i längdhopp.  
Liam hoppade 38 cm längre.  
Hur långt hoppade han?



Svar: Liam hoppade \_\_\_\_\_ cm.

**6** a) 

	3	5	7
+	8	3	4

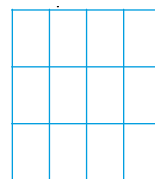
b) 

	7	9	3
-	1	5	5

c) 

	3	1
	.	4

**7** Adela köper två pocketböcker.  
Den ena kostar 57 kr och den andra 89 kr.  
Hur mycket betalar Adela sammanlagt?



\_\_\_\_\_


\_\_\_\_\_

Svar: Adela betalar \_\_\_\_\_ kr.

- 8 Hur mycket ska du betala om du köper fyra akvariefiskar?



29 kr/st



Svar: Fyra akvariefiskar kostar \_\_\_\_\_ kr.

## Veckans problem

Du har talet 4 283. Låt entalssiffran byta plats med hundratalssiffran.

- a) Vilket är det nya talet? \_\_\_\_\_
- b) Vilket av talen är störst? \_\_\_\_\_