

Efter avsnitt 4.4

Namn: _____

1 Avrunda talet 778 till

a) hundratal _____ b) tiotal _____

2 a) $\frac{400}{20} =$ _____ b) $400 \cdot 80 =$ _____ c) $\frac{4500}{50} =$ _____

3 a)

3	4				
2					

 =

b)





5	1				
3					

 =



c)

9	6				
8					

 =

4 Hur lång tid har det gått?

a) _____ b) _____

5 Basketklubben IKSU köper 8 nya bollar.
Hur mycket kostar bollarna sammanlagt?Svar: Bollarna kostar _____ kr sammanlagt.**6** En liten pizza kostar 59 kr.
Mormor köper fyra sådana pizzor till sina barnbarn.
Hur mycket får hon betala?Svar: Mormor betalar _____ kr.

7 a)

	1	4	6
	.		7
<hr/>			

b)

	8	8	8
-	5	6	9
<hr/>			

c)

	8	9	7
+	8	5	6
<hr/>			

- 8 Theo vill köpa en ny cykelhjälm.
Hjälmen kostar 395 kr.
Avrund priset till hundratal kronor.

Svar: 395 kr \approx _____ kr

Veckans problem

Vilket är nästa tal?

550 535 520 505 _____