

Efter avsnitt 4.5

Namn: _____


1 Skriv det tal som är 100 mindre.

a) 1 000 _____ b) 1 890 _____ c) 1 089 _____

2 a) $\frac{56}{2} =$ _____ b) $\frac{408}{4} =$ _____ c) $\frac{645}{3} =$ _____

3 Avrunda talet 1 872 till

a) tusental _____ b) hundratal _____ c) tiotal _____

4 Biljetterna till en konsert kostar 380 kr per styck.
Hur mycket kostar det för en familj på fyra personer
att gå på konserten?Svar: Biljetterna kostar _____ kr för familjen.**5** Beräkna med överslagsräkning.
Visa hur du avrundar och räknar.

a) $295 + 414 \approx$ _____ + _____ = _____

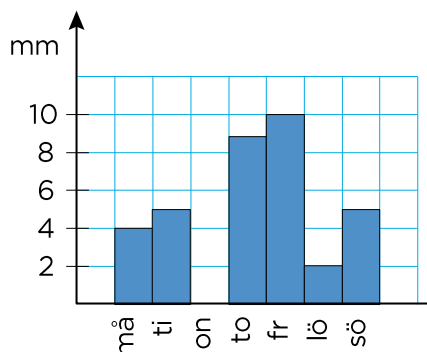
b) $81 - 29 \approx$ _____ - _____ = _____

c) $712 - 289 \approx$ _____ - _____ = _____


6 I sin sparbössa har Olle 5 hundralappar, 6 tiokronor och 25 enkronor.
Hur mycket pengar har Olle i sparbössan?Svar: _____ kr

7 Diagrammet visar hur mycket det regnade i Malmö en vecka.

- a) Hur många millimeter (mm) regnade det på torsdagen? _____ mm
- b) Hur många millimeter regnade det under hela veckan? _____ mm
- c) Beräkna medelvärdet. _____ mm



8 År 2018 döptes 765 flickor till Alice.
Samma år döptes 657 flickor till Maja.
Hur många fler flickor döptes till Alice det året?



Svar: _____ fler flickor döptes till Alice.

Veckans problem

Jag tänker på ett tal mellan 1 och 10.

Jag multiplicerar talet med 6.

Sedan tar jag hälften av produkten.

Då får jag 15.

Vilket tal tänker jag på?

Svar: _____