

Efter avsnitt 5.1

Namn: _____

1 Avrunda till tiotal.

a) $68 \approx$ _____ b) $769 \approx$ _____ c) $1\,001 \approx$ _____

2 Skriv måtten i millimeter.

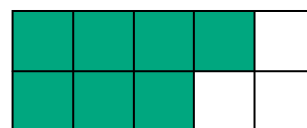

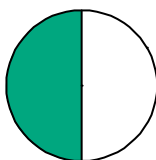
3 cm = _____ mm 4 cm 7 mm = _____ mm 14 cm = _____ mm

3 I Gärdesskolan går det 480 elever.

De är indelade i tre lika stora grupper när de ska äta lunch.

Hur många elever är det i varje grupp?

_____ = _____

Svar: Det är _____ elever i varje grupp.**4** Hur stor andel av bilden är grön?

a) _____

b) _____

c) _____

5

a)

	4	8	2
+	3	4	7


b)

	9	1	8
-	2	7	5

c)

	2	0	5
	.		7

- 6 a) Hur mycket är klockan? _____
 b) Hur mycket var klockan för tre kvart sedan? _____




Eftermiddag

- 7 I klass 4A går det 30 elever.
 En dag fick de prinskorv till lunch.
 Eleverna i klassen åt sammanlagt 150 prinskorvar.
 Hur många korvar åt varje elev om alla åt lika många?

_____ = _____

Svar: _____ prinskorvar

- 8 Adora är 105 cm lång.
 Hennes bror Edgar är 133 cm.
 Hur mycket längre är Edgar än Adora?



Svar: Edgar är _____ cm längre än Adora.

Veckans problem

Ester, Johanna, Erika och Anna utmanar varandra på pingis.
 Hur många matcher har de spelat,
 när alla har mött alla en gång?

Svar: _____ matcher

