




Efter avsnitt 6.2

Namn: _____

1 Avrunda talet 5 273 till

a) tusental _____ b) hundratal _____ c) tiotal _____

2 Hur stor är arean? 1 ruta = 1 cm²a) _____ cm² b) _____ cm² c) _____ cm²**3** Skriv volymen i liter och centiliter.

a) 225 cl = _____ liter _____ cl b) 475 cl = _____ liter _____ cl

c) 150 cl = _____ liter _____ cl d) 105 cl = _____ liter _____ cl

4 Elias öppnar en förpackning med 1 liter juice.

Han häller upp 2 dl i ett glas.

Hur många deciliter juice är det kvar i förpackningen?

Svar: _____ dl**5** a) $\frac{351}{3} =$ _____ b) $\frac{960}{4} =$ _____ c) $\frac{755}{5} =$ _____**6** Sofia betalar 345 kr för tre kilogram räkor.

Vad kostar ett kilogram av räkorna?

Svar: Ett kilogram räkor kostar _____ kr.

- 7 Conny har en bräda som är 3 m lång.
Han sågar av en bit som är 220 cm.
Hur mycket är det kvar av brädan?

Svar: Det är _____ cm kvar av brädan.

- 8 En triangel har omkretsen 36 cm.
En kvadrat har samma omkrets.
Hur lång är varje sidan i kvadraten?

Svar: _____ cm

Veckans problem

Till en utslagstävling i innebandy har åtta lag anmält sig.
Hur många matcher ska man spela i turneringen?

Svar: _____ matcher