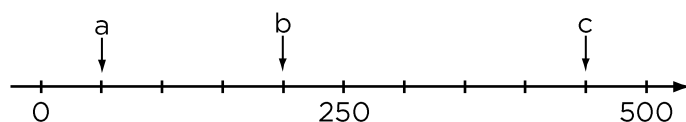


EFTER AVSNITT 1.4

Namn: _____ Klass: _____

1 Skriv talen i storleksordning med det största talet först.

399 411 319 491 349

Svar: _____**2** a) $205 - 199 =$ _____b) $90 + 30 =$ _____c) $1\ 000 - 850 =$ _____**3** a) $3 \cdot 6 =$ _____b) $4 \cdot 9 =$ _____c) $7 \cdot 8 =$ _____**4** a) $\frac{21}{7} =$ _____b) $\frac{30}{6} =$ _____c) $\frac{40}{8} =$ _____**5** Vilka tal pekar pilarna på?a) Svar: _____b) Svar: _____c) Svar: _____

6 Sara hoppade en bana med sin ponny.
För varje rivet hinder får man fyra fel.
Saras ponny rev tre hinder. Hur många fel blev det?

Svar: _____


7 Vilket tal är x ?

a) $x \cdot 7 = 42$ Svar: _____

b) $\frac{81}{x} = 9$ Svar: _____


c) $25 = x \cdot x$ Svar: _____

8 Leo, Alma och Noa ska spela kula. Leo har 24 kulor. Alma har bara en tredjedel så många. Noa har dubbelt så många kulor som Alma. Hur många kulor har barnen sammanlagt?



Veckans problem

Med hjälp av klossar kan du bygga en trappa. Bilderna visar hur trappan ser ut om den har ett trappsteg, två trappsteg och tre trappsteg.



Hur många klossar behöver du för att bygga en trappa med

a) fem trappsteg Svar: _____

b) sju trappsteg Svar: _____

c) tio trappsteg Svar: _____

