

EFTER AVSNITT 1.5

Namn: _____ Klass: _____

1 Vilket tal kommer närmast före?

a) 450 Svar: _____

b) 700 Svar: _____

c) 1 200 Svar: _____

2 Vilket tal saknas?

a) $23 - \square = 18$ Svar: _____


b) $99 + \square = 105$ Svar: _____

c) $9 \cdot \square = 90$ Svar: _____

3 a) $352 + 400 =$ _____

b) $93 - 40 =$ _____


c) $115 + 70 =$ _____

4 Åtta barn delar lika på 40 chokladbitar.
Hur många får var och en?**5** Skriv det tal som är 100 mindre.

a) 2 562 Svar: _____

b) 1 079 Svar: _____

c) 2 050 Svar: _____

**6** Melker simmade 875 meter.
Lena simmade 250 meter kortare.
Hur långt simmade Lena?


- 7 a) Produkten av två faktorer är 35. Den ena faktorn är 5.

Vilken är den andra?

Svar: _____

- b) Kvoten av två tal är 4. Nämnaren 8. Vilken är täljaren? Svar: _____

- 8 Selma köpte en bukett med astrar. Hon lämnade fram en hundralapp och fick 55 kr tillbaka. Hur många astrar fanns det i buketten om de kostade 9 kr styck?



Veckans problem

Placera siffrorna 1, 2, 3, 4 och 5 så att du får samma summa både lodrätt och vågrätt.

Kan du komma på flera lösningar?

