






- 6** Oscar köper fyra glassar av samma sort.  
Han betalar med en femtiolapp och  
får 2 kr tillbaka.  
Hur mycket kostar en glass?



- 7** a)  $\frac{426}{3}$                       b)  $258 \cdot 6$                       c)  $\frac{725}{5}$



- 8** Axel, Joakim, och Oskar letar tomburkar.  
Axel hittar 6 burkar och Joakim hittar tre  
gångar så många. Oskar hittar hälften så  
många burkar som Joakim.  
Hur många tomburkar hittar de sammanlagt?



## Veckans problem

Walter, Anna, Viktor och Ebba bor i var sitt hus på Bagargatan. Var och en har ett sällskapsdjur. Ta reda på vilket djur Viktor har och i vilket hus Walter bor med hjälp av de här ledträdarna.

- Anna bor på Bagargatan 2.
- Katten bor granne med Ebba.
- Marsvinet bor i nummer 8.
- Viktor bor på Bagargatan 6.
- Ebba har en kanin.
- Anna har en pudel.



2



4



6



8

Namn \_\_\_\_\_

Husdjur \_\_\_\_\_