

EFTER AVSNITT 5.1


1 Avrunda till tiotal.

a) 68

b) 769


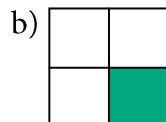
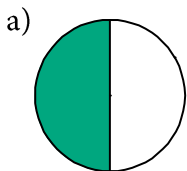
c) 1 001

2 Skriv måtten i millimeter.



3 I Gärdesskolan går det 480 elever. När eleverna ska äta lunch är de uppdelade i tre lika stora grupper. Hur många äter i varje grupp?

4 Hur stor andel av bilden är grön?




5 a) $482 + 347$

b) $916 - 328$ c) $7 \cdot 125$

6 a) Hur mycket är klockan?

b) Hur mycket var klockan för 20 minuter sedan?

c) Hur mycket är klockan om en timme och 10 minuter?



Eftermiddag

7 I 4A går 30 elever. En dag serverades det spenat och prinskorv i matsalen. Eleverna i 4A åt sammanlagt 150 prinskorvar. Hur många korvar åt varje elev i genomsnitt?

8 Adora är 105 cm lång. Hennes bror Edgar är 133 cm.

a) Hur mycket längre är Edgar än Adora?

b) Barnens pappa är 55 cm kortare än barnens sammanlagda längd.
Hur lång är pappa?

Veckans problem

Linnea, Johanna, Erika och Anna utmanar varandra på pingis.
Hur många matcher har de spelat när alla har mött alla en gång?

