





EFTER AVSNITT 6.3

Namn: _____ Klass: _____

1 Dela upp i kilogram och hektogram.

a) 65 hg = _____ b) 107 hg = _____ c) 58 hg = _____

2 Johan har 120 kr. Han köper en ficklampa för 58 kr.
Hur mycket har han sedan kvar?**3** a) 2 liter 3 dl – 1 liter 7 dl b) 3 dl 7 cl + 7 dl 5 cl**4** Mät sidorna och beräkna figurens omkrets. Mät i hela centimeter.**5** a) Rita en kvadrat med sidan 3 cm.
b) Hur stor area har kvadraten?
c) Dela in kvadraten i fyra lika stora delar. Skugga en av delarna.
Hur stor andel av kvadraten är inte skuggad?