





EFTER AVSNITT 6.3

Namn: _____ Klass: _____

1 Dela upp i kilogram och hektogram.a) $65 \text{ hg} =$ _____ b) $107 \text{ hg} =$ _____ c) $58 \text{ hg} =$ _____**2** Johan har 120 kr. Han köper en ficklampa för 58 kr.
Hur mycket har han sedan kvar?**3** a) $2 \text{ liter } 3 \text{ dl} - 1 \text{ liter } 7 \text{ dl}$ b) $3 \text{ dl } 7 \text{ cl} + 7 \text{ dl } 5 \text{ cl}$ **4** Mät sidorna och beräkna figurens omkrets. Mät i hela centimeter.**5** a) Rita en kvadrat med sidan 3 cm.

b) Hur stor area har kvadraten?

c) Dela in kvadraten i fyra lika stora delar. Skugga en av delarna.
Hur stor andel av kvadraten är inte skuggad?