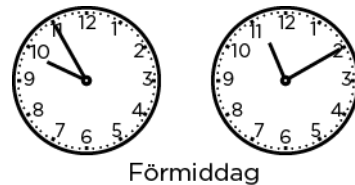


Efter avsnitt 3.4

Namn: _____

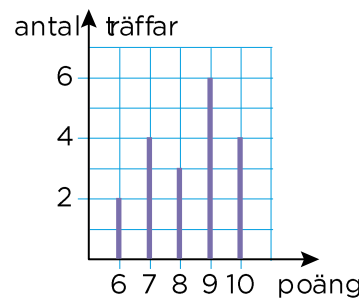
- 1 Hur lång tid är det mellan klockslagen?



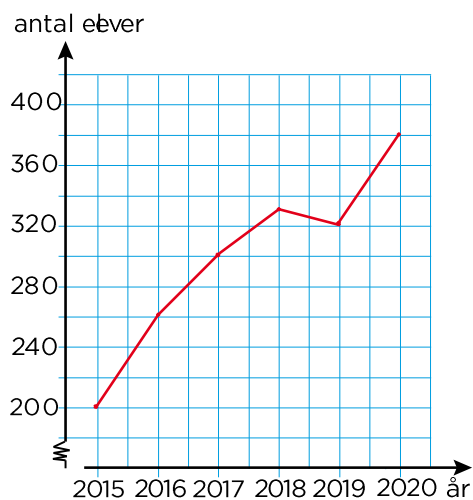
- 2 Hugo kastade pilar mot en piltavla.
Diagrammet visar hans resultat.

a) Hur många "tior" fick Hugo? _____

b) Hur många "åttor" fick Hugo? _____



- 3 Diagrammet visar antalet elever på en skola från augusti 2015 till augusti 2020.



a) Hur många elever var det på skolan i augusti 2015? _____

b) Vilket år var det 380 elever på skolan? _____

- 4 Skriv talen i storleksordning. Börja med det minsta talet.

1,12 2,1 0,99 1,9
