

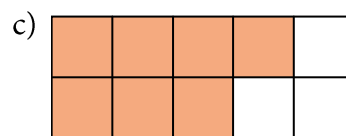
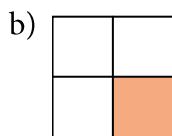
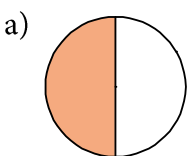
EFTER AVSNITT 1.3

Namn: _____

- 1** Skriv talen i storleksordning. Börja med det största.

$$\frac{1}{10} \quad \frac{1}{3} \quad \frac{1}{6} \quad \frac{1}{100} \quad \frac{1}{5}$$

- 2** Hur stor andel av bilden är färgad? Svara i både bråkform och decimalform.




Svar: a) — = _____ b) — = _____ c) — = _____

- 3** Skriv talen i bråkform.

a) 0,03 = _____ b) 0,9 = _____ c) 0,017 = _____

- 4** På ett fat ligger 12 plommon. Mia äter 2 st, Leo 3 st och Damon äter 4 st.
Hur stor andel av plommonen finns sedan kvar på fatet?



- 5** Gustav II Adolf dog 6 november 1632. I december skulle han ha fyllt 38 år.
Vilket år föddes han?

