


6 Ett bord är 0,8 m brett och 3 m långt.

- a) Hur lång är omkretsen?
b) Beräkna bordets area.




7 Du har talet 56,25. Skriv det tal som är


- a) $\frac{3}{100}$ större b) $\frac{1}{10}$ mindre c) $\frac{8}{10}$ större

Svar: a) _____ b) _____ c) _____

8 Isabell köper sju stora rosor för 189 kr. Lukas köper tre rosor av samma sort. Hur mycket får han betala?



9 I en skål ligger 1,2 liter smultron. Hugo äter upp en fjärdedel av bären. Freja äter upp en tredjedel av det som är kvar. Hur många deciliter finns det sedan kvar i skålen?



Veckans problem

Tillsammans är Adam, hans mamma och pappa 100 år. Mamma är fyra gånger så gammal som Adam. Pappa är 1 år äldre än mamma. Hur gammal är Adam?

