





Efter avsnitt 1.7

Namn: _____

1 Skriv talet i tiosystemet.

a) $10_2 =$ _____ b) $100_2 =$ _____ c) $1000_2 =$ _____

2 a) $53,8 + 15,45$ b) $63,95 - 28,4$ **3** a) $6,52 \cdot 4$ b) $5 \cdot 135,5$ **4** Du har talet 3 456,78. Vilken siffra är

a) hundratalssiffra _____

b) hundradelssiffra _____

c) tusentalssiffra _____

5 Nicole köper tre tröjor för 447 kr. Vilket är priset per styck om alla tre kostar lika mycket?