





Efter avsnitt 1.7

Namn: _____

1 Skriv talet i tiosystemet.


a) $10_2 =$ _____ b) $100_2 =$ _____ c) $1000_2 =$ _____

2 a) $53,8 + 15,45$ b) $63,95 - 28,4$ **3** a) $6,52 \cdot 4$ b) $5 \cdot 135,5$ **4** Du har talet 3 456,78. Vilken siffra är


a) hundratalssiffra _____

b) hundradelssiffra _____


c) tusentalssiffra _____

5 Nicole köper tre tröjor för 447 kr. Vilket är priset per styck om alla tre kostar lika mycket?


6 a) $600 \cdot 4,2$



b) $5,35 \cdot 30$



- 7 På företaget Norrägg packar man ägg i kartonger. En dag packade man 3 400 ägg. Varje kartong rymde 20 ägg. Hur många kartonger packade man den dagen?



8 a) $\frac{5\,100}{300} =$ _____

b) $\frac{50,4}{40} =$ _____

Veckans problem

I en tidning har första sidan nummer 1 och den sista nummer 24.
Hur många siffror har man använt sammanlagt för att numrera sidorna?

Svar: _____