


Efter avsnitt 2.5

Namn: _____

1 Hur stor är delen?


a) $\frac{1}{4}$ av 12 kr

b) $\frac{2}{5}$ av 20 m

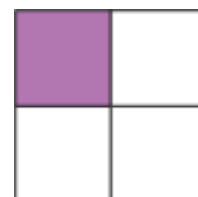
**2** Hur stor andel av kvadraten är lila?

Svara i bråkform, decimalform och procentform.

a) tjugo hundradelar = _____ = _____ = _____



b) en fjärdedel = _____ = _____ = _____

**3** Hur stor andel av kulorna är blåa.

Svara i bråkform, decimalform och procentform.

_____ = _____ = _____

**4** Vilket tecken passar mellan talen? Välj mellan =, < och >?

a) $0,2$ _____ 75%

b) $0,25$ _____ $\frac{1}{10}$

c) $\frac{1}{2}$ _____ 50%


5 I en stor skola är 55 % av eleverna pojkar.

Hur många procent av eleverna är flickor?

Svar: _____ av eleverna är flickor.

6 I klass 6A är det 24 elever. En tredjedel av eleverna cyklar till skolan.

- a) Hur många elever cyklar till skolan?
b) Hur stor andel av eleverna cyklar inte till skolan?





7 Skriv talen i bråkform.

a) $2\frac{1}{2} = \frac{\quad}{\quad}$ b) $0,3 = \frac{\quad}{\quad}$ c) $25\% = \frac{\quad}{\quad}$

8 a) $32,4 + 6,95$

b) $31,82 \cdot 4$



Veckans problem

Elefanten Mumbo är 7 år yngre än sin bror Jumbo.
Sammanlagt är de 65 år.
Hur gamla är de båda elefanterna?

Svar: Mumbo är _____ år och Jumbo är _____ år.

