

Namn: _____

- 1** Alex har gjort en uträkning med en miniräknare och fått svaret 5,4.

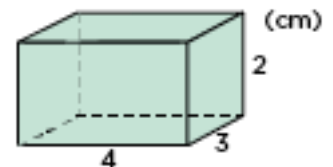
Vilken av uträkningarna har han gjort? _____

A: $0,54 / 10$ B: $3,2 + 2,02$ C: $10,2 - 4,6$ D: $0,54 \cdot 10$

- 2** Beräkna värdet av uttrycket $2 + 5a$ för $a = 8$.



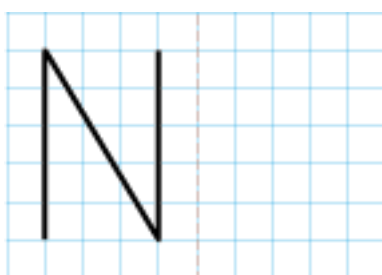
- 3** Beräkna rätblockets volym.



- 4** Sebastian har tre par skor, fyra tröjor och två par shorts.
På hur många sätt kan han klä sig i skor, tröja och ett par shorts?

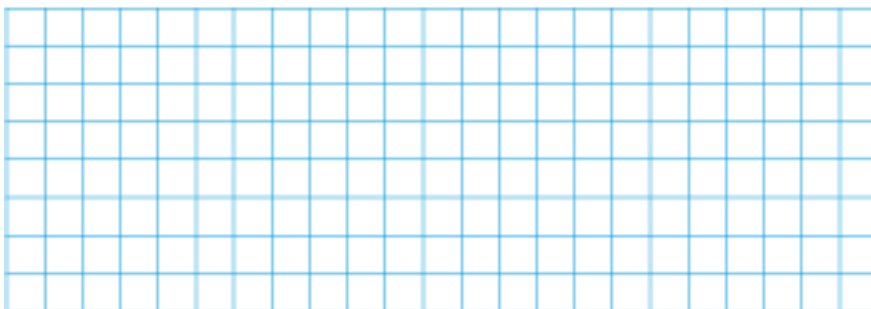


- 5** Spegla bokstaven N i speglingslinjen.



speglingslinje

- 6** Alma köper 7 hg vindruvor för 31,50 kr.
- Vad kostar 1 hg vindruvor?
 - Vad kostar 1 kg vindruvor om priset är proportionellt mot vikten?



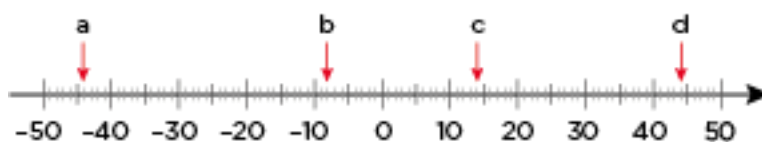
- 7** Hur många minuter har det gått när minutvisaren har vridit sig

- 90° _____
- 180° _____



- 8** Vilka tal pekar pilarna på?

- _____
- _____
- _____
- _____



Veckans problem

Ingrid ville köpa tre glassar, men pengarna räckte inte. Det fattades 10 kr. Hon köpte två glassar istället och fick då 10 kr över. Hur mycket pengar hade Ingrid och hur mycket kostade varje glass?

