

EFTER AVSNITT 1.4

Namn: _____

1 a) $1,2 + 0,2 =$ _____

b) $\frac{1,2}{2} =$ _____

c) $1,2 \cdot 0,2 =$ _____

2 Vilket tal är x ?

a) $\frac{x}{4} = 0,6$ Svar: _____

b) $3 \cdot x = 1,5$ Svar: _____





c) $0,05 = \frac{x}{5}$ Svar: _____

3 a) $10 \cdot 2,37 =$ _____

b) $265 \cdot 100 =$ _____

c) $1\ 000 \cdot 3,18 =$ _____

4 a) $26,4 \cdot 7 =$ _____ b) $19,44 \cdot 8 =$ _____ c) $278,3 \cdot 9 =$ _____

**5** Nadja har bara 275 m till skolan. Hennes bror Gustav har tio gånger så långt till sin skola. Hur mycket längre skolväg har Gustav?**6** En kväll i augusti var det bara $+3^\circ \text{C}$ i Börtnan. Klockan 02.00 hade temperaturen sjunkit med sex grader. Vilken var temperaturen då?
