


Vad visar en digital klocka?


Vad är klockan? Skriv klockslagen med siffror.

1



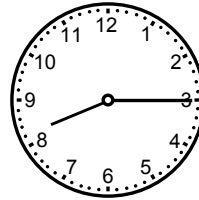
Förmiddag

2



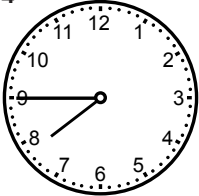
Eftermiddag

3




Kväll

4




Morgon

5



Eftermiddag

6



Kväll

7 Halv tre på eftermiddagen _____

8 Kvant över sex på morgonen _____

9 Kvant i nio på kvällen _____

10 Tio över elva på förmiddagen _____

11 Fem över fyra på eftermiddagen _____

12 Fem i elva på kvällen _____

Vad visar en digital klocka?

FACIT

- 1 10.00
- 2 12.30
- 3 20.15
- 4 07.45
- 5 17.20
- 6 21.50
- 7 14.30
- 8 06.15
- 9 20.45
- 10 11.10
- 11 16.05
- 12 22.55