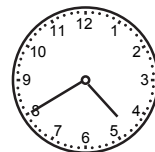


Räkna med tid (I)

1 Hur mycket


- a) är klockan? _____
- b) var klockan för en halvtimme sedan? _____
- c) är klockan om en kvart? _____



Eftermiddag

2 Hur mycket

- a) är klockan? _____
- b) är klockan om tjugo minuter? _____
- c) var klockan för tjugo minuter sedan? _____



Förmiddag

3 Hur mycket

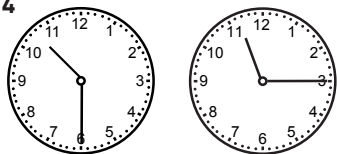
- a) är klockan? _____
- b) är klockan om en kvart? _____
- c) var klockan för en kvart sedan? _____



Kväll


Hur lång tid är det mellan klockslagen?

4




Förmiddag

5




Eftermiddag

6



Kväll

7



Förmiddag

Räkna med tid (I)**FACIT**

- 1 a) 16.40
b) 16.10
c) 16.55
- 2 a) 10.20
b) 10.40
c) 10.00
- 3 a) 19.50
b) 20.05
c) 19.35
- 4 45 min
- 5 15 min
- 6 1 h 30 min
- 7 3 h 20 min