

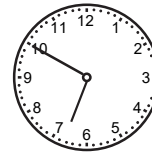


Vi repeterar 5

1 a) $475 - 200 =$ _____ b) $97 + 30 =$ _____ c) $2\ 100 - 700 =$ _____

2 Skriv talen med siffror.

a) sjutusen åttahundraåtta _____ b) nittontusen tolv _____

3 Skriv två klockslag till varje bild.




a) _____ b) _____ c) _____


4 a) $594 - 362$

b) $\frac{732}{4}$

c) $7 \cdot 235$



5 Beräkna medelvärdet.

6 Vilket tal är x ?

a) $x + 90 = 160$

b) $420 - x = 310$

c) $48 = 6 \cdot x$

$x =$ _____

$x =$ _____

$x =$ _____

7 Hur många timmar och minuter är

a) $50 \text{ min} + 25 \text{ min} =$ _____

b) $6 \text{ h} - 1 \text{ h } 15 \text{ min} =$ _____

8 Vilket eller vilka av talen i rutan är en

a) kvot _____ b) term _____ c) nämnare _____

$17 + 5 = 22$

$6 \cdot 7 = 42$

$\frac{32}{8} = 4$

$19 - 3 = 16$

Vi repeterar 5

FACIT

- 1 a) 275
b) 127
c) 1 400
- 2 a) 7 808
b) 19 012
- 3 a) 01.20 och 13.20
b) 02.45 och 14.45
c) 06.50 och 18.50
- 4 a) 232
b) 183
c) 1 645
- 5 3 prickar
- 6 a) $x = 70$
b) $x = 110$
c) $x = 8$
- 7 a) 1 h 15 min
b) 4 h 45 min
- 8 a) 4
b) 17, 5, 19 och 3
c) 8