


Vi repeterar 6


- Skriv det tal som är
 - 10 större än 895 _____
 - 100 mindre än 3 090 _____
- Hur mycket
 - är klockan? _____
 - var klockan för 20 min sedan? _____
- Vilket värde har siffran 7 i talen?
 - 2 578 _____
 - 1 732 _____
 - 75 122 _____



Eftermiddag

4 Beräkna medelvärdet.

Månad	Nederbörd
Juli	35 mm
Juni	30 mm
Augusti	55 mm




5 Använd siffrorna i rutan och skriv ett tal som

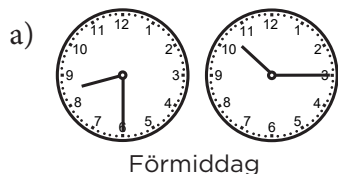
- är så stort som möjligt _____
- är så nära 5 000 som möjligt _____



- 6 a) $67 + 735 + 288$ b) $4 \cdot 763$ c) $\frac{828}{6}$



7 Hur lång tid är det mellan klockslagen?



Förmiddag



Eftermiddag

8 Vilka tal saknas?

- Ett kvartal har _____ månader.
- 2 h 15 min = _____ min
- $70 \text{ s} + \text{_____ s} = 2 \text{ min}$
- _____ min - 35 min = 1 h 40 min

Vi repeterar 6

FACIT

- 1 a) 905
b) 2 990
- 2 a) 13.15
b) 12.55
- 3 a) 70
b) 700
c) 70 000
- 4 40 mm
- 5 a) 9 754
b) 4 975
- 6 a) 1 090
b) 3 052
c) 138
- 7 a) 1 h 45 min
b) 1 h 15 min
- 8 a) 3
b) 135
c) 50
d) 135