

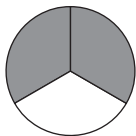
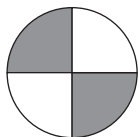
Andel

1 Skriv talen med siffror

a) en fjärdedel = —

b) tre fjärdedelar = —

2 Hur stor andel av bilden är skuggad och hur stor andel är vit?



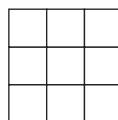
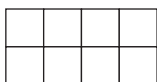
a) Skuggad: —

b) Skuggad: —

Vit: —

Vit: —

3 Skugga så stor andel som står angiven under figurerna.

a) $\frac{1}{4}$ b) $\frac{3}{8}$ c) $\frac{4}{9}$

4 Vilket tal är störst?

a) $\frac{1}{5}$ eller $\frac{1}{4}$ Svar: —b) $\frac{1}{2}$ eller $\frac{1}{3}$ Svar: —c) $\frac{2}{3}$ eller $\frac{3}{4}$ Svar: —

5 Ahmed cyklar från Bäckby till Rönaby.



a) Hur stor andel har han cyklat när han kommer till Jakobsberg? —

(Välj mellan svaren $\frac{1}{3}$, $\frac{1}{4}$ och $\frac{1}{5}$)

b) Hur stor andel har han kvar att cykla? —

Andel**FACIT**

1 a) $\frac{1}{4}$

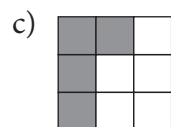
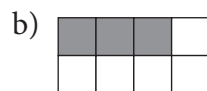
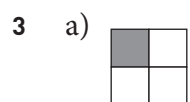
b) $\frac{3}{4}$

2 a) Skuggad: $\frac{2}{4}$ ($\frac{1}{2}$),

Vit: $\frac{2}{4}$ ($\frac{1}{2}$)

b) Skuggad: $\frac{2}{3}$

Vit: $\frac{1}{3}$



4 a) $\frac{1}{4}$

b) $\frac{1}{2}$

c) $\frac{3}{4}$

5 a) $\frac{1}{3}$

b) $\frac{2}{3}$