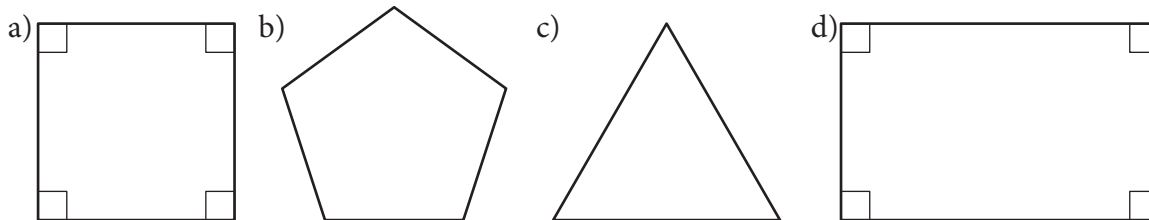


### Geometriska former

1 Vad heter figurerna?



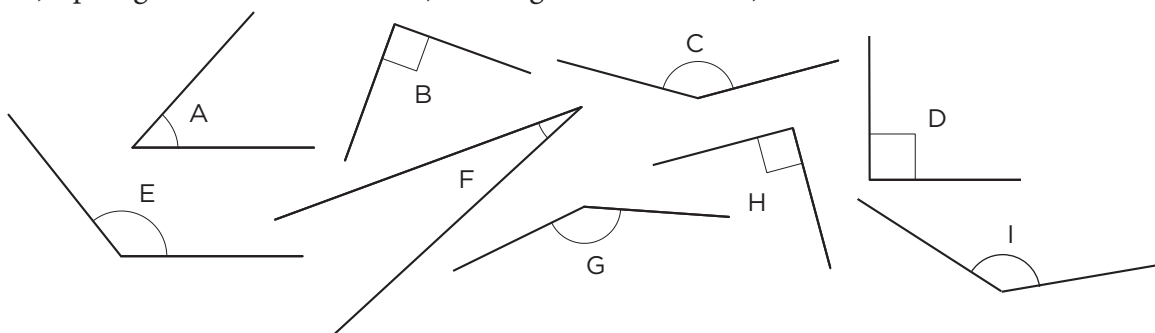
a) \_\_\_\_\_ b) \_\_\_\_\_  
 c) \_\_\_\_\_ d) \_\_\_\_\_

2 Vilka vinklar är

a) spetsiga

b) trubbiga

c) räta




a) \_\_\_\_\_ b) \_\_\_\_\_ c) \_\_\_\_\_

3 Rita en kvadrat med sidan 35 mm.

4 Rita en triangel som har en trubbig vinkel.

5 Rita en rektangel som är 2 cm bred och 5 cm lång.



## Geometriska former

**FACIT**

- 1 a) Kvadrat  
b) Femhörning  
c) Triangel  
d) Rektangel
- 2 a) A och F  
b) C, E, G och I  
c) B, D och H
- 3 –
- 4 –
- 5 –