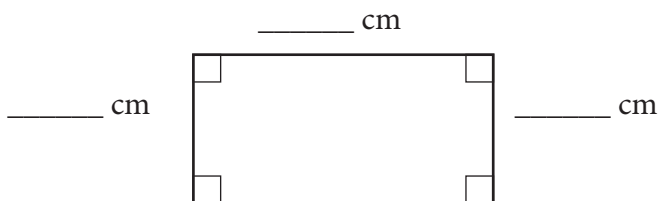


### Omkrets

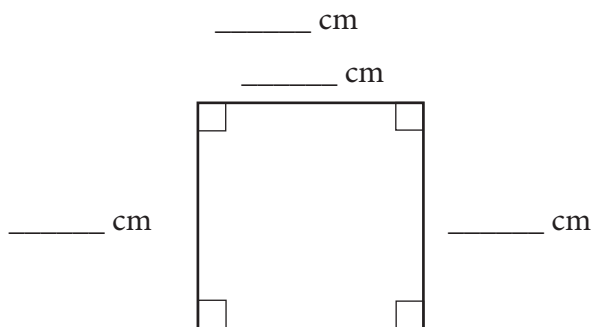
Mät längden av sidorna i hela och halva centimeter. Beräkna sen omkretsen.

1



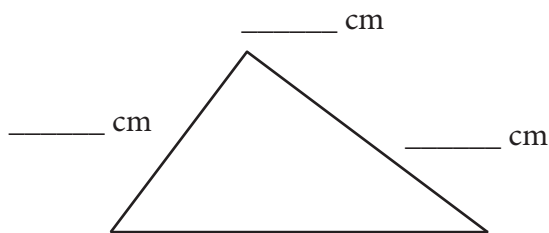
Omkretsen är \_\_\_\_\_ cm.

2



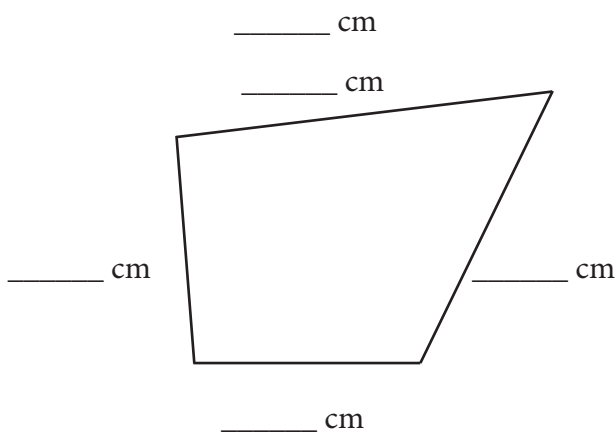
Omkretsen är \_\_\_\_\_ cm.

3



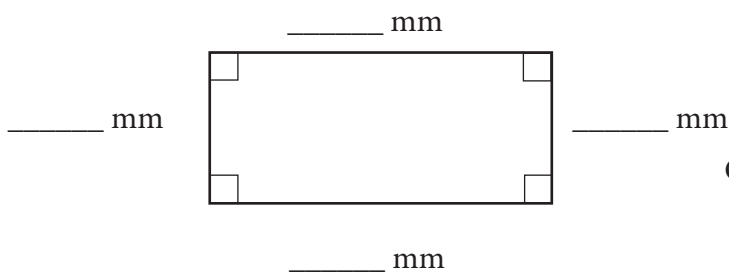
Omkretsen är \_\_\_\_\_ cm.

4



Omkretsen är \_\_\_\_\_ cm.

5



Omkretsen är \_\_\_\_\_ cm.

## Omkrets

**FACIT**

1 12 cm

2 12 cm

3 12 cm

4 15 cm

5 13 cm