

Vi repeterar 11

1 Skriv i centiliter.

a) 7 dl = _____ cl

b) 2 liter = _____ cl

c) 20 ml = _____ cl

2 Skriv talen med siffror.

a) tjugotvåusen etthundrafem _____

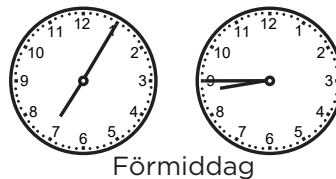
b) femtiosjutusen femtiotvå _____

3 Skriv i gram.

a) 2 hg 5 g = _____ g

b) 1 hg 35 g = _____ g

c) 3 kg 4 hg = _____ g

4 Hur lång tid är det
mellan klockslagen?
_____

5 Skriv volymerna i storleksordning. Börja med den största volymen.

4 dl $\frac{1}{2}$ liter 25 ml 12 cl 600 ml

6 En rektangel har sidorna 5 cm och 4 cm.

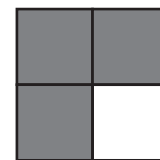

a) Hur lång är omkretsen? _____

b) Hur stor är arean? _____

7 a) Hur stor andel av kvadraten är grå? _____

b) Antag att halva vita kvadraten målas grå.

Hur stor andel av kvadraten är då sedan vit? _____

8 En dag dricker Emine 1 dl vatten på morgonen, 25 cl till lunch,
15 cl på eftermiddagen och 4 dl efter sin träning.
Hur mycket vatten fattas för att hon ska ha druckit 1 liter?

Vi repeterar 11

FACIT

- 1 a) 70 cl
b) 200 cl
c) 2 cl
- 2 a) 22 105
b) 57 052
- 3 a) 205 g
b) 135 g
c) 3 400 g
- 4 1 h 40 min
- 5 600 ml $\frac{1}{2}$ liter 4 dl 12 cl 25 ml
- 6 a) 18 cm
b) 20 cm²
- 7 a) $\frac{3}{4}$
b) $\frac{1}{8}$
- 8 1 dl (10 cl)