


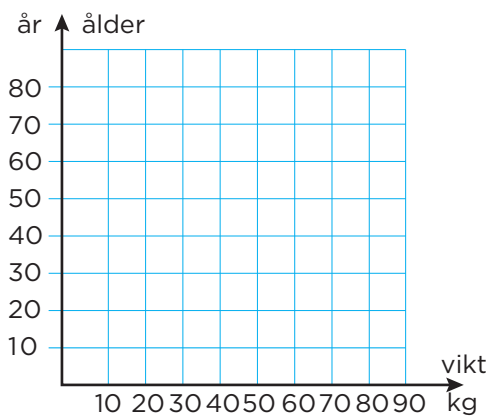
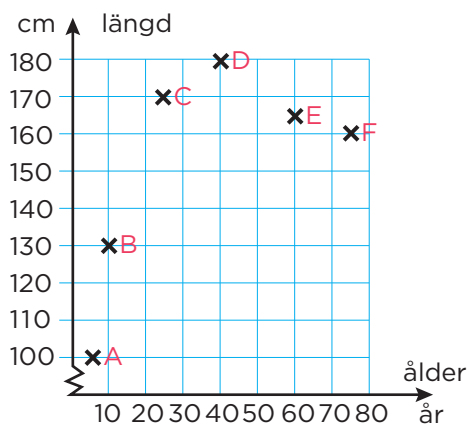
Vem är vem?

Bilden visar sex personer som alla har olika ålder, längd och vikt.



A I diagrammet har vi markerat de sex personerna med kryss. Men vem är vem? För in dina resultat i tabellen.

B Rita av diagrammet i ditt räknehäfte. Placera ut de sex personerna i diagrammet. Markera med kryss och bokstav.



	Namn	Ålder	Längd	Vikt
A				
B				
C				
D				
E				
F				