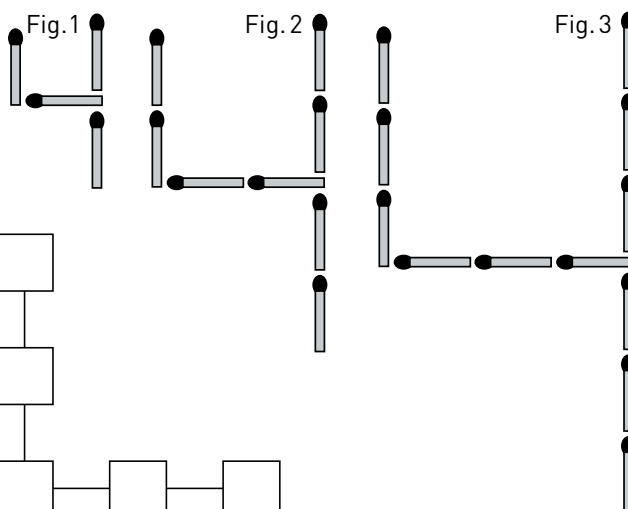
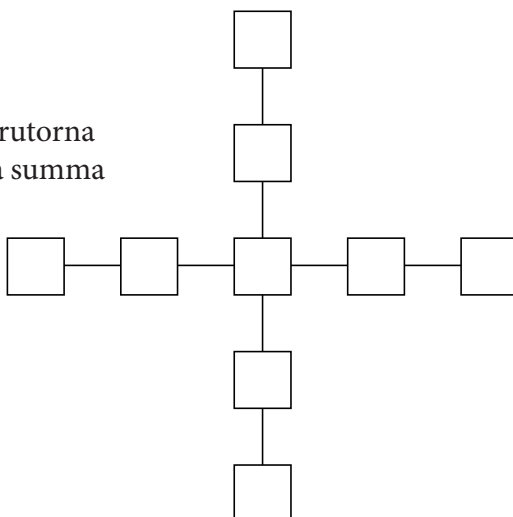


Kluriga problem

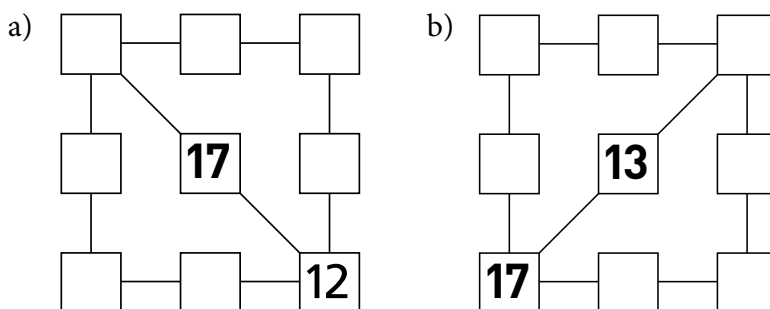
- 1 Så här kan man lägga siffran 4 med tändstickor. Hur många tändstickor behövs för att lägga figur 12?



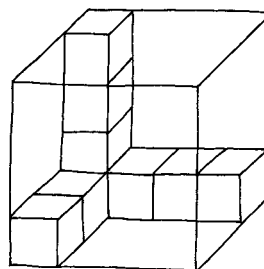
- 2 Skriv in talen 1-9 i rutorna så att du får samma summa lodrätt och vågrätt.



- 3 Skriv in talen 11-19 så att summan blir 44 såväl lodrätt, vågrätt som diagonalt.



- 4 Hur många små klossar fattas för att lådan ska vara helt fylld? _____



- 5 Två lampor blinkar samtidigt. Den ena blinkar var fjärde sekund och den andra var sjunde sekund. Hur länge dröjer det innan de blinkar samtidigt igen? _____

- 6 Vilka tal ska stå på de tomma platserna?

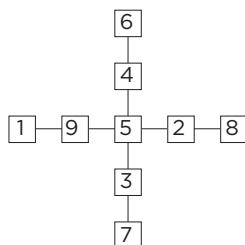
5 10 15 25 40 _____ _____ _____ 275

Kluriga problem

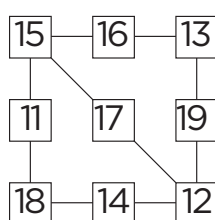
FACIT

1 48 tändstickor

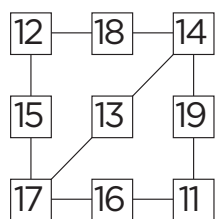
2



3 a)



b)



4 39 kuber

5 28 s

6 65, 105 och 170
(Alla tal från och med det tredje är lika med summan av de två tal som finns innan.)