


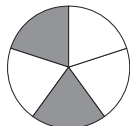
Bråkform och decimalform (II)

Hur stor andel är skuggad? Svara i både bråkform och decimalform.

1 _____ = _____



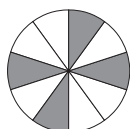
2 _____ = _____



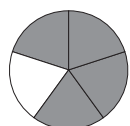
3 _____ = _____



4 _____ = _____



5 _____ = _____

6 Vilket tal är x ?

a) $0,25 = \frac{1}{x}$

$x = \underline{\quad}$

b) $\frac{x}{5} = 0,6$

$x = \underline{\quad}$

c) $\frac{3}{x} = 0,75$

$x = \underline{\quad}$

7 Vilket tal är störst?

a) $\frac{10}{100}$ eller $\frac{10}{10}$

Svar: _____

b) $\frac{1}{2}$ eller $\frac{5}{8}$

Svar: _____

c) 0,2 eller 0,25

Svar: _____8 Vilket tal är y ?

a) $\frac{y}{5} = 0,4$

$y = \underline{\quad}$

b) $0,8 = \frac{y}{10}$

$y = \underline{\quad}$

c) $\frac{y}{100} = 0,11$

$y = \underline{\quad}$

Bråkform och decimalform (II)**FACIT**

1 $\frac{1}{4} = 0,25$

2 $\frac{2}{5} = 0,4$

3 $\frac{3}{4} = 0,75$

4 $\frac{4}{10} = 0,4$

5 $\frac{4}{5} = 0,8$

6 a) $x = 4$

b) $x = 3$

c) $x = 4$

7 a) $\frac{10}{10}$

b) $\frac{5}{8}$

c) 0,25

8 a) $y = 2$

b) $y = 8$

c) $y = 11$