



Räkna med tid (II)

- 1 a) Hur mycket är klockan? _____
 b) Hur mycket är klockan om 45 minuter? _____
 c) Hur mycket var klockan för 45 minuter sedan? _____




Eftermiddag

- 2 a) Hur mycket är klockan? _____
 b) Hur mycket är klockan om 2 timmar och 10 minuter? _____
 c) Hur mycket var klockan för 2 timmar och 10 minuter sedan? _____



Förmiddag


- 3 a) Hur mycket är klockan? _____
 b) Hur mycket är klockan om 3 timmar och 25 minuter? _____
 c) Hur mycket var klockan för 3 timmar och 25 minuter sedan? _____



Kväll


Hur lång tid är det mellan klockslagen?

4




Förmiddag

5




Eftermiddag

6



Kväll

7



Förmiddag

Räkna med tid (II)**FACIT**

- 1 a) 16.35
b) 17.20
c) 15.50
- 2 a) 11.55
b) 14.05
c) 09.45
- 3 a) 20.05
b) 23.30
c) 16.40
- 4 2 h 50 min
- 5 3 h 55 min
- 6 1 h 40 min
- 7 2 h 50 min