

Vi repeterar 7

1 a) $100 \cdot 13 =$ _____ b) $\frac{150}{30} =$ _____ c) $40 \cdot 600 =$ _____

2 Vilket av talen i rutan är lika med


a) $\frac{1}{100} =$ _____ b) $0,2 =$ _____
 c) $\frac{19}{100} =$ _____ d) $\frac{1}{10} =$ _____

0,1	0,19	$\frac{2}{100}$
0,019	$\frac{2}{10}$	0,01

3 Vilket värde har siffran 2 i talen?

a) 3 275 b) 0,723 c) 26 807
 Svar: _____ Svar: _____ Svar: _____

4 Tre böcker kostade sammanlagt 579 kr.
 Hur mycket kostade varje bok i genomsnitt?



5 a) $\frac{67,5}{100} =$ _____ b) $0,016 \cdot 1\,000 =$ _____ c) $\frac{125}{1\,000} =$ _____

6 Avrunda talen till tiotal.

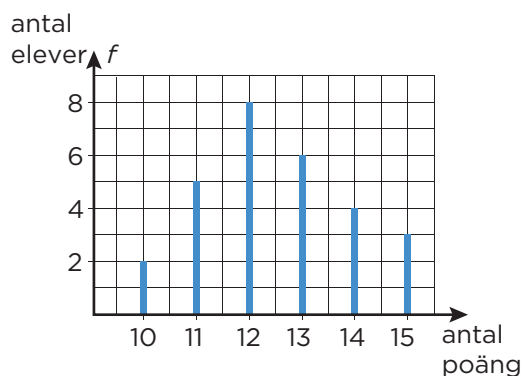
a) $52,5 \approx$ _____ b) $147,8 \approx$ _____ c) $9,8 \approx$ _____

7 Diagrammet visar antalet poäng på en frågesport i klass 5A.


- a) Hur många elever hade mer än 13 poäng?

- b) Hur många elever deltog i frågesporten?

- c) Vilket är typvärdet? _____



8 a) $11,5 - 8,93$ b) $7 \cdot 23,9$ c) $\frac{34,65}{5}$



Vi repeterar 7

FACIT

- 1 a) 1 300
b) 5
c) 24 000

- 2 a) 0,01
b) $\frac{2}{10}$
c) 0,19
d) 0,1

- 3 a) 200
b) 0,02
c) 20 000

- 4 193 kr

- 5 a) 0,675
b) 16
c) 0,125

- 6 a) 50
b) 150
c) 10

- 7 a) 7 elever
b) 28 elever
c) 12 poäng

- 8 a) 2,57
b) 167,3
c) 6,93