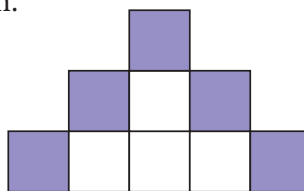
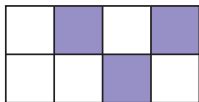


Vi repeterar 8

1 Hur stor andel är skuggad? Svara i bråkform.



a) _____

b) _____

2 Vilket tal är störst?

a) $\frac{2}{5}$ eller 0,25 _____

b) 0,199 eller $\frac{19}{100}$ _____

3 Vad visar en digital klocka

a) tre minuter över åtta på kvällen? _____

b) fyra minuter i tre på eftermiddagen? _____

4 Hur många minuter är?

a) 4 h _____


b) $\frac{1}{3}$ h _____

c) ett dygn _____

5 a) $37,2 - 9,67$

b) $8 \cdot 2,79$

c) $\frac{271,5}{5}$




6 Beräkna med överslagsräkning.

a) $39,2 + 41,3 + 68,2 \approx$ _____ $=$ _____

b) $7,2 \cdot 8,9 \approx$ _____ $=$ _____

c) $\frac{34,8}{5,7} \approx$ _____ $=$ _____



7 Yasmine har 3 450 m till skolan. Leo har $\frac{1}{3}$ så lång skolväg.

Hur mycket längre har Yasmine än Leo? _____

8 Vilket tal är x ?

a) $\frac{x}{10} = 1,135$

b) $147,8 = x \cdot 14,78$

c) $\frac{97,2}{x} = 0,972$

$x =$ _____

$x =$ _____

$x =$ _____

Vi repeterar 8

FACIT

- 1 a) $\frac{3}{8}$
b) $\frac{5}{9}$
- 2 a) $\frac{2}{5}$
b) 0,199
- 3 a) 20.03
b) 14.56
- 4 a) 240 min
b) 20 min
c) 1 440 min
- 5 a) 27,53
b) 22,32
c) 54,3
- 6 a) 150
b) 63
c) 6
- 7 2 300 m
- 8 a) $x = 11,35$
b) $x = 10$
c) $x = 100$