

Vi repeterar 12

1 Skriv talen i decimalform.

a) $\frac{1}{1000} =$ _____


b) $\frac{3}{4} =$ _____

c) $\frac{4}{5} =$ _____

2 a) $14,8 - 3,65$

b) $487,3 \cdot 5$

c) $\frac{80,45}{5}$



3 Beräkna med överslagsräkning

a) $2,9 + 6,1 + 8,8 \approx$ _____

b) $407 \cdot 6,2 \approx$ _____

4 Olivia kastade en tärning åtta gånger och fick följande resultat:

6, 3, 4, 3, 2, 5, 6, 3

a) Vilket är typvärdet? Svar: _____ b) Vilken är medianen? Svar: _____

c) Vilket är medelvärdet? Svar: _____

5 Vilket tal är x ?

a) $7 \text{ cm} + 9 \text{ cm} = x \text{ dm}$ Svar: $x =$ _____

b) $x \text{ cm} = 0,42 \text{ dm} - 5 \text{ mm}$ Svar: $x =$ _____

c) $8 \cdot x \text{ dm} = 5,6 \text{ m}$ Svar: $x =$ _____

6 En rektangel är 8 cm lång och 2 cm bred.

a) Hur stor är arean? Svar: _____


b) Vilken omkrets har en kvadrat med lika stor area? Svar: _____

7 Vilka tal saknas?

a) $1,5 \text{ dl} =$ _____ ml b) $67 \text{ hg} =$ _____ kg c) $75 \text{ cl} =$ _____ liter

8 Hur lång tid är det mellan klockslagen?


a)



Eftermiddag

Svar: _____

b)



Kväll

Svar: _____

Vi repeterar 12

FACIT

- 1 a) 0,001
b) 0,75
c) 0,8
- 2 a) 11,15
b) 2 436,5
c) 16,09
- 3 a) 18
b) 2 400
- 4 a) 3
b) 3,5
c) 4
- 5 a) $x = 1,6$
b) $x = 3,7$
c) $x = 7$
- 6 a) 16 cm^2
b) 16 cm
- 7 a) 150
b) 6,7
c) 0,75
- 8 a) 1 h 45 min
b) 3 h 30 min