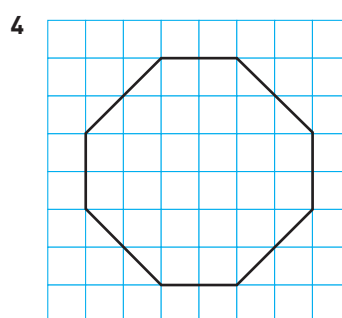
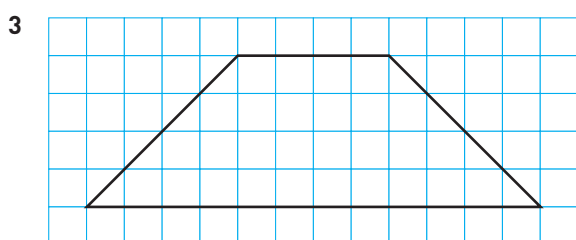
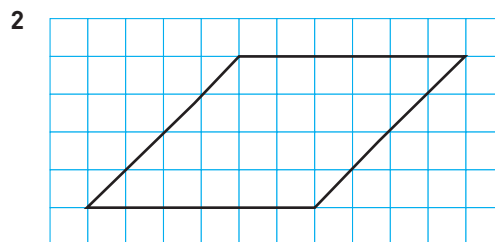
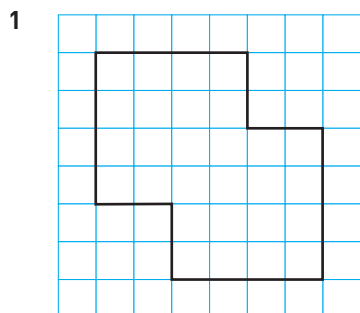
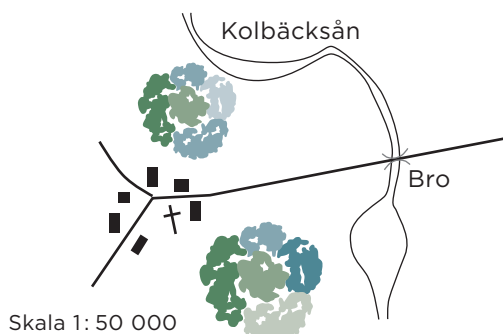


Blandad geometri

Hur stor är arean? Räkna med att varje ruta är en kvadrat med sidan 0,5 cm.



- 5 Eiffeltornet är 300 m högt. I vilken skala är tornet på en bild där tornet är 3 cm högt?
- 6 Hur långt är det från kyrkan till bron över Kolbäckån?
Mät i hela centimeter och svara i meter.



- 7 En rektangel har arean 108 cm^2 och omkretsen 42 cm.
Hur långa är rektangelns sidor?
- 8 Hur stor är vinklarna mellan visarna på en klocka som visar
a) 13.00 b) 13.30 c) 13.15

Blandad geometri**FACIT**

1 7 cm^2

2 6 cm^2

3 8 cm^2

4 7 cm^2

5 $1 : 10\,000$

6 $1\,500 \text{ m}$

7 12 cm och 9 cm

8 a) 30°

b) 150°

c) $82,5^\circ$