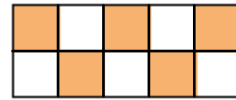



10 Hur stor andel av rektangeln är vit?
Svara i både bråkform och decimalform.



25 (25)

11 Mät sträckan. Skriv längden på tre olika sätt.



31 (32)

12 Skriv längderna i meter.

31 (32)

- a) 1 m 65 cm b) 2 m 34 cm

13 Skriv i kronor.

31 (32)

- a) 8 kr 50 öre b) 14 kr 75 öre c) 60 öre

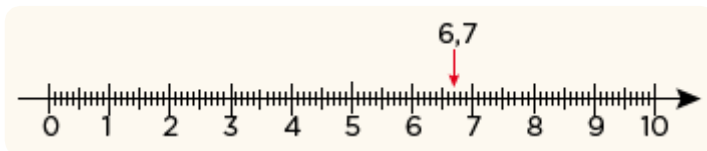
14 Vilka tal pekar pilarna på?

32 (33)




15 Avrunda talet 6,7 till heltal.

37 (40)



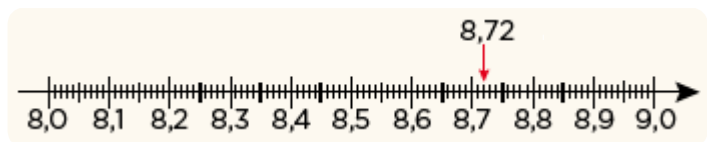
16 Avrunda talet 650 till hundratal.

38 (41)



17 Avrunda talet 8,72 till tiondelar.

38 (41)



18 Tara köper apelsiner för 47,60 kr. Hur mycket ska hon betala?

38 (41)

- 19** a) $0,8 + 0,6$ b) $0,07 + 0,04$ 66 (74)
- 20** a) $1,2 - 0,4$ b) $0,15 - 0,06$ 66 (74)
- 21** Semir fiskade i en sjö och fick två abborrar. Den ena vägde $0,7$ kg och den andra $0,5$ kg. Hur mycket vägde abborrarna sammanlagt? 66 (74)
- 22** Vilket tal är störst och vilket är minst? 72 (82)
 $0,18$ $0,19$ $0,2$ $0,1$ $0,08$
- 23** a) $1 + 0,5$ b) $5 - 0,1$ c) $0,1 + 0,01$ 72 (82)
- 24** a) $7,8 + 4$ b) $0,3 + 0,04$ c) $9,4 - 8$ 72 (82)
- 25** a) $2 \cdot 0,4$ b) $3 \cdot 0,05$ c) $1,2 \cdot 2$ 78 (89)
- 26** Hur mycket väger blomkålen sammanlagt? 78 (89)



- 27** a) $\frac{0,6}{3}$ b) $\frac{0,15}{3}$ c) $\frac{4,8}{4}$ 82 (94)

Beräkna med överslagsräkning.

- 28** a) $14,9 + 4,2 + 5,7$ b) $707 - 298$ c) $2\ 875 + 4\ 125 + 995$ 87 (100)
- 29** a) $6,9 \cdot 42,5$ b) $19 \cdot 31$ c) $\frac{42,5}{6,1}$ 92 (106)

Facit Repetition kap 1–2

1 a) $\frac{3}{8}$

b) $\frac{5}{8}$

2 $\frac{8}{10}$

3 a) 120 kr

b) $\frac{2}{3}$

4 a) 0,3

b) 0,07

c) 0,015

5 a) $\frac{6}{10}$

b) $\frac{11}{100}$

c) $\frac{3}{1000}$

6 a) $\frac{7}{10}$

b) 0,32

7 0,741

8 a) 0,03

b) 0,5

c) 0,6

9 a) $\frac{7}{10}$

b) $\frac{2}{10} \left(\frac{1}{5}\right)$

c) $\frac{8}{10} \left(\frac{4}{5}\right)$

10 $\frac{5}{10} \left(\frac{1}{2}\right)$ och 0,5

11 23 mm =
= 2 cm 3 mm =
= 2,3 cm

12 a) 1,65 m

b) 2,34 m

13 a) 8,50 kr

b) 14,75 kr

c) 0,60 kr

14 a) 1,5

b) 3,7

c) 5,2

d) 8,4

15 7

16 700

17 8,7

18 48 kr

19 a) 1,4

b) 0,11

20 a) 0,8

b) 0,09

21 1,2 kg

22 Störst: 0,2

Minst: 0,08

23 a) 1,5

b) 4,9

c) 0,11

24 a) 11,8

b) 0,34

c) 1,4

25 a) 0,8

b) 0,15

c) 2,4

26 1,6 kg

27 a) 0,2

b) 0,05

c) 1,2

28 a) 25

b) 400

c) 8 000

29 a) 280

b) 600

c) 7