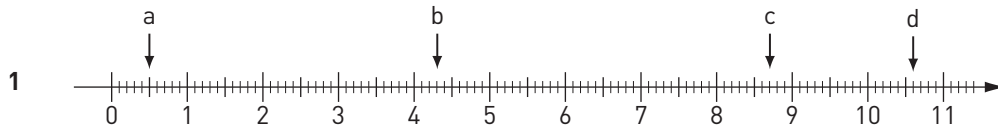
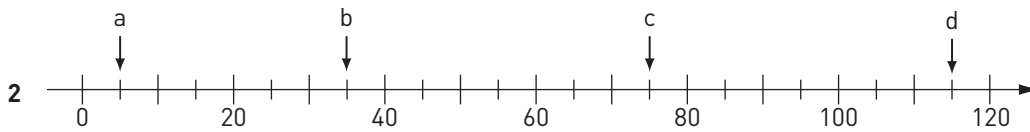


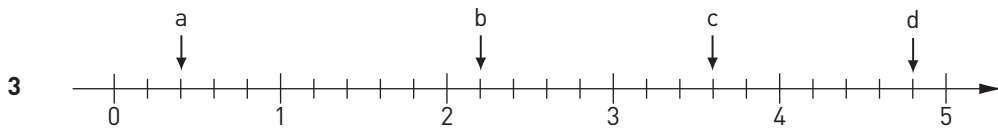
Vilka tal pekar pilarna på?



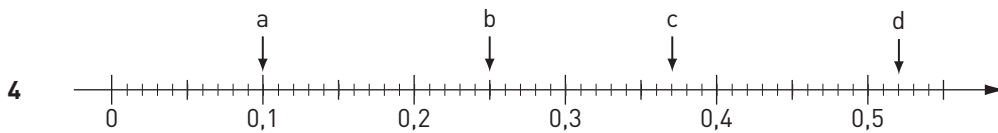
a) _____ b) _____ c) _____ d) _____



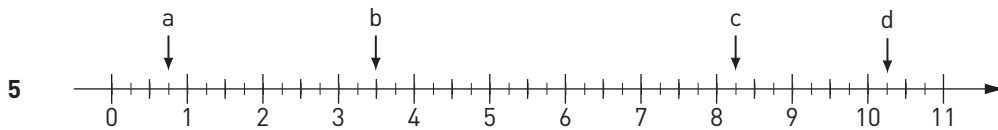
a) _____ b) _____ c) _____ d) _____



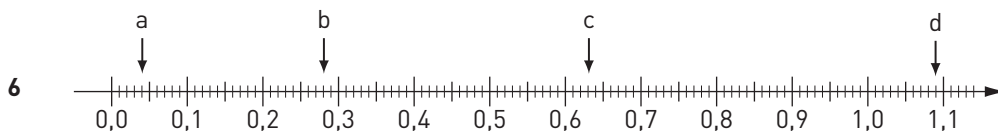
a) _____ b) _____ c) _____ d) _____



a) _____ b) _____ c) _____ d) _____



a) _____ b) _____ c) _____ d) _____



a) _____ b) _____ c) _____ d) _____

FACIT

Vilka tal pekar pilarna på?

- 1 a) 0,5
b) 4,3
c) 8,7
d) 10,6

- 2 a) 5
b) 35
c) 75
d) 115

- 3 a) 0,4
b) 2,2
c) 3,6
d) 4,8

- 4 a) 0,1
b) 0,25
c) 0,37
d) 0,52

- 5 a) 0,75
b) 3,5
c) 8,25
d) 10,25

- 6 a) 0,04
b) 0,28
c) 0,63
d) 1,09