


Tal i bråkform

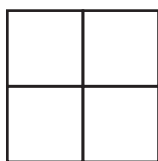
1 a) Skugga eller måla $\frac{1}{3}$.

b) Hur stor andel är sedan vit? _____



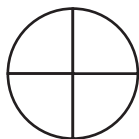
2 a) Skugga eller måla $\frac{1}{4}$.

b) Hur stor andel är sedan vit? _____



3 a) Skugga eller måla $\frac{3}{4}$.

b) Hur stor andel är sedan vit? _____




4 a) Skugga eller måla $\frac{2}{5}$.

b) Hur stor andel är sedan vit? _____



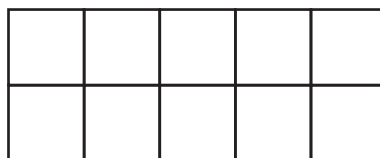
5 a) Skugga eller måla $\frac{5}{9}$.

b) Hur stor andel är sedan vit? _____



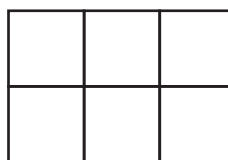
6 a) Skugga eller måla $\frac{3}{10}$.

b) Hur stor andel är sedan vit? _____



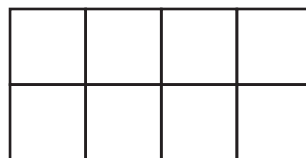
7 a) Skugga eller måla $\frac{2}{3}$.

b) Hur stor andel är sedan vit? _____



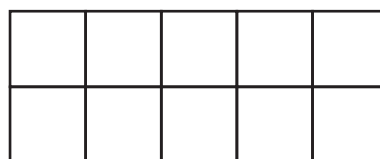
8 a) Skugga eller måla $\frac{3}{4}$.

b) Hur stor andel är sedan vit? _____



9 a) Skugga eller måla $\frac{4}{5}$.

b) Hur stor andel är sedan vit? _____



10 a) Skugga eller måla $\frac{3}{8}$.

b) Hur stor andel är sedan vit? _____



FACIT

Tal i bråkform

1 b) $\frac{2}{3}$

2 b) $\frac{3}{4}$

3 b) $\frac{1}{4}$

4 b) $\frac{3}{5}$

5 b) $\frac{4}{9}$

6 b) $\frac{7}{10}$

7 b) $\frac{1}{3}$

8 b) $\frac{1}{4}$

9 b) $\frac{1}{5}$

10 b) $\frac{5}{8}$