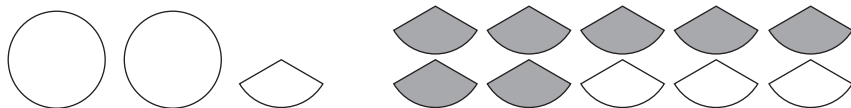


Hur många delar?

Hur många tredjedelar är $2\frac{1}{3}$? Skugga eller måla rätt antal delar.



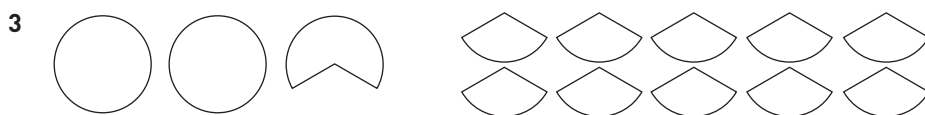
Skugga eller måla rätt antal delar.



$$2 = \frac{\quad}{4}$$



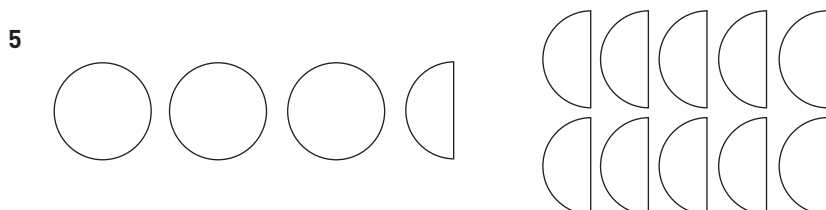
$$1\frac{3}{4} = \frac{\quad}{4}$$



$$2\frac{2}{3} = \frac{\quad}{3}$$



$$1\frac{4}{5} = \frac{\quad}{5}$$



$$3\frac{1}{2} = \frac{\quad}{2}$$

FACIT**Hur många delar?**

1 $\frac{8}{4}$

2 $\frac{7}{4}$

3 $\frac{8}{3}$

4 $\frac{9}{5}$

5 $\frac{7}{2}$