


## Procent

1 a) Färglägg 50 %.

b) Hur stor andel är nu vit?



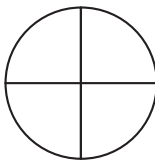
Bråkform \_\_\_\_\_

Procentform \_\_\_\_\_

Decimalform \_\_\_\_\_

2 a) Färglägg 25 %.

b) Hur stor andel är nu vit?




Bråkform \_\_\_\_\_

Procentform \_\_\_\_\_

Decimalform \_\_\_\_\_

3 a) Färglägg 20 %.

b) Hur stor andel är nu vit?




Bråkform \_\_\_\_\_

Procentform \_\_\_\_\_

Decimalform \_\_\_\_\_

4 a) Färglägg 35 %.

b) Hur stor andel är nu vit?




Bråkform \_\_\_\_\_

Procentform \_\_\_\_\_

Decimalform \_\_\_\_\_

5 a) Färglägg 70 %.

b) Hur stor andel är nu vit?



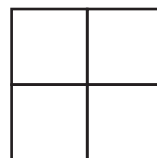
Bråkform \_\_\_\_\_

Procentform \_\_\_\_\_

Decimalform \_\_\_\_\_

6 a) Färglägg 75 %.

b) Hur stor andel är nu vit?



Bråkform \_\_\_\_\_

Procentform \_\_\_\_\_

Decimalform \_\_\_\_\_

## FACIT

**Procent**

- 1 b) Bråkform:  $\frac{1}{2}$   
Procentform: 50 %  
Decimalform: 0,5
- 2 b) Bråkform:  $\frac{3}{4}$   
Procentform: 75 %  
Decimalform: 0,75
- 3 b) Bråkform:  $\frac{4}{5}$   
Procentform: 80 %  
Decimalform: 0,8
- 4 b) Bråkform:  $\frac{65}{100}$   
Procentform: 65 %  
Decimalform: 0,65
- 5 b) Bråkform:  $\frac{3}{10}$   
Procentform: 30 %  
Decimalform: 0,3
- 6 b) Bråkform:  $\frac{1}{4}$   
Procentform: 25 %  
Decimalform: 0,25