

Hur stor är delen?

1 a) 50 % av 400 kr = _____

b) 25 % av 80 st = _____

2 a) 25 % av 16 kg = _____

b) 10 % av 500 ml = _____

3 a) 20 % av 30 cl = _____



b) 1 % av 600 kr = _____

4 a) 100 % av 50 liter = _____

b) 20 % av 150 kg = _____



5 a) 60 % av 30 min

b) 5 % av 400 m





6 a) 4 % av 200 ml

b) 40 % av 250 km




7 a) 30 % av 120 mil


b) 7 % av 300 kr



- 8 En tröja kostade 700 kr.
Priset sänktes vid en rea med 40 %.
Vilket blev det nya priset?



- 9 Ett liftkort kostade 350 kr.
Året därpå hade priset höjts med 10 %.
Vad kostade liftkortet då?



FACIT**Hur stor är delen?**

- 1 a) 200 kr
b) 20 st
- 2 a) 4 kg
b) 50 ml
- 3 a) 6 cl
b) 6 kr
- 4 a) 50 liter
b) 30 kg
- 5 a) 18 min
b) 20 m
- 6 a) 8 ml
b) 100 km
- 7 a) 36 mil
b) 21 kr
- 8 420 kr
- 9 385 kr