


Geometriska objekt

1 Vilken eller vilka av bilderna visar en

a) sträcka _____ b) linje _____ c) stråle _____

d) Vilken eller vilka av bilderna har en längd? _____



2 a) Vad för slags figur är det här?

b) Dra en diagonal och mät längden av den.



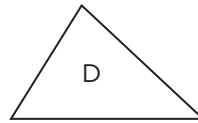
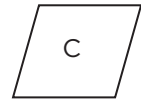
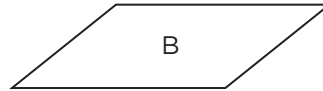
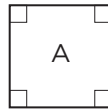
3 Vilken eller vilka av figurerna är en

a) romb _____

b) rektangel _____

c) kvadrat _____

d) parallelogram _____



4 Vilken geometrisk form har dessa föremål?

A: _____

B: _____

C: _____

D: _____

E: _____

F: _____



A




B



C



D



E



F

FACIT**Geometriska objekt**

- 1 a) B
b) A och E
c) C och D
d) B
- 2 a) Rektangel
b) 6,5 cm
- 3 a) A och C
b) A och E
c) A
d) A, B, C och E
- 4 A: Klot
B: Rätblock
C: Pyramid
D: Cylinder
E: Rätblock, kub
F: Kon