



## Symmetri

1 Rita flaggornas symmetrilinjer.

a)



b)



c)



2 a) Vilka av bokstäverna är symmetriska? \_\_\_\_\_

b) Rita ut symmetrilinjerna. \_\_\_\_\_

**C H F S G Ö**

3 a) Vilka av talen består av endast symmetriska siffror? \_\_\_\_\_

b) Rita ut symmetrilinjerna.

**301 280 830 101**

**106 309 318 808**

4 Vilken eller vilka av tärningarna visar en sida som har

a) en vågrät symmetrilinje \_\_\_\_\_

b) en lodrät symmetrilinje \_\_\_\_\_

c) en diagonal symmetrilinje \_\_\_\_\_



A



B



C



D

5 Rita ut symmetrilinjerna.

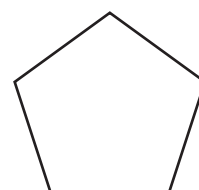
a)



b)



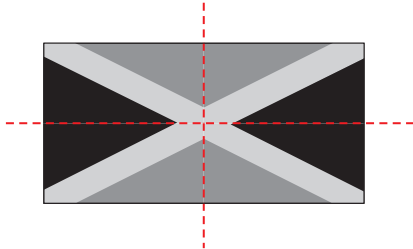
c)



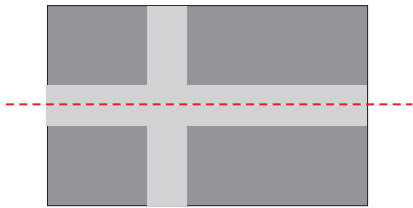
## FACIT

## Symmetri

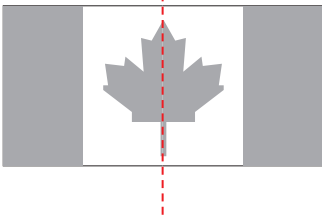
1 a)



b)



c)



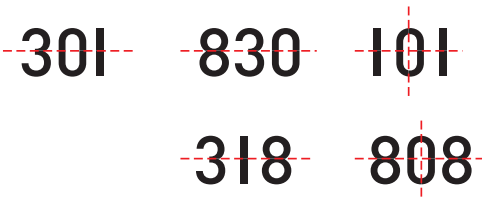
2 a) C, H och Ö

b)



3 a) 301, 830, 101, 318 och 808

b)

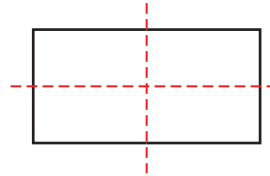


4 a) C och D

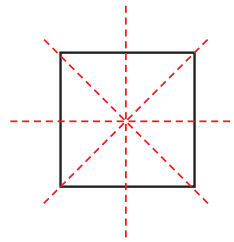
b) C och D

c) A och B och C

5 a)



b)



c)

